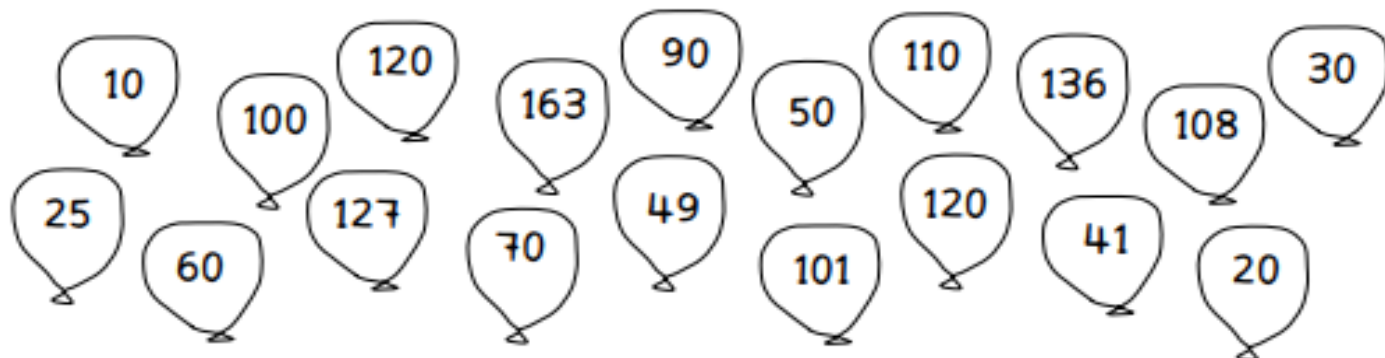


Μοτίβα πολλαπλασιασμού 2, 5 και 10

ονομα: _____

1. Ο κύριος Δέκα φούσκωσε μπαζόνια για το πάρτι των γενεθλίων του γιού του. Χρωμάτισε τα μπαζόνια που έχουν αριθμούς που είναι πολλαπλάσια του 10.

Έτσι, θα βρεις και τα μπαζόνια που φούσκωσε ο κύριος Δέκα.



2. Να βοηθήσεις τη Σοφία να περάσει τον γαβύρινδο των αριθμών.

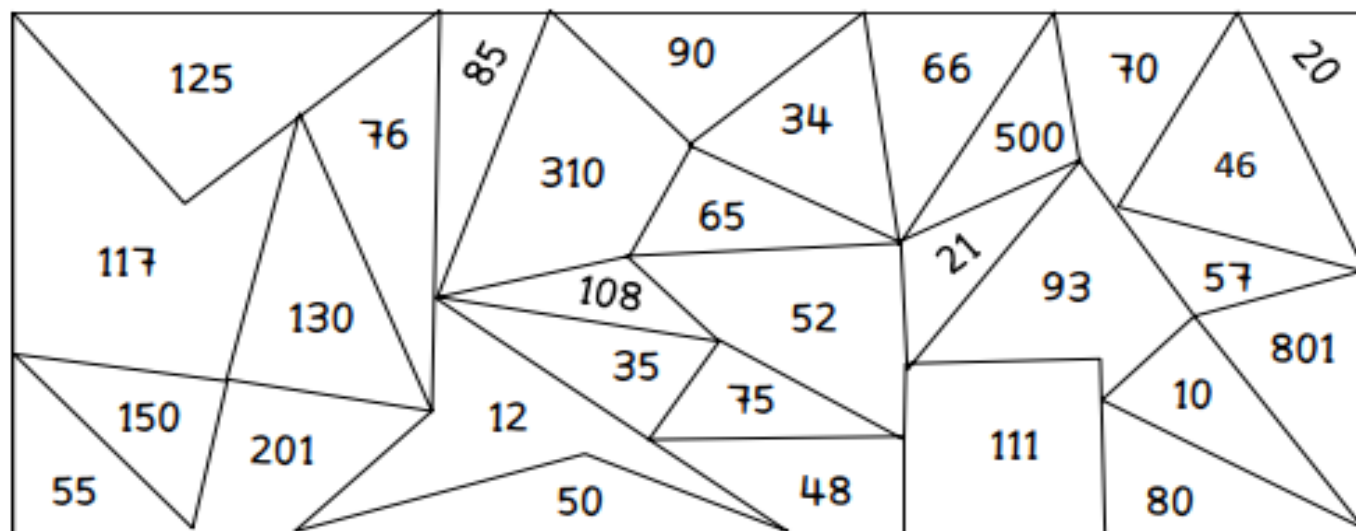
| | | | | | | | | | | | | | | |
|-----|-----|-----|-----|----|-----|-----|-----|-----|-----|----|-----|-----|-----|-----|
| 77 | 103 | 140 | 12 | 10 | 7 | 35 | | | | | | | | |
| 23 | 85 | 68 | 13 | 82 | 66 | 40 | | | | | | | | |
| 222 | 110 | 42 | 47 | 61 | 11 | 2 | | | | | | | | |
| 30 | 15 | 9 | 101 | 89 | 103 | 121 | 51 | 67 | 81 | 87 | 95 | 52 | 79 | 133 |
| 26 | 29 | 3 | 53 | 24 | 144 | 64 | 84 | 100 | 80 | 34 | 111 | 20 | 90 | 70 |
| 28 | 18 | 32 | 55 | 40 | 49 | 13 | 137 | 155 | 145 | 56 | 113 | 125 | 147 | 88 |
| 63 | 71 | 44 | 72 | 50 | 29 | 63 | 71 | 59 | 89 | 8 | 60 | 62 | 46 | 6 |



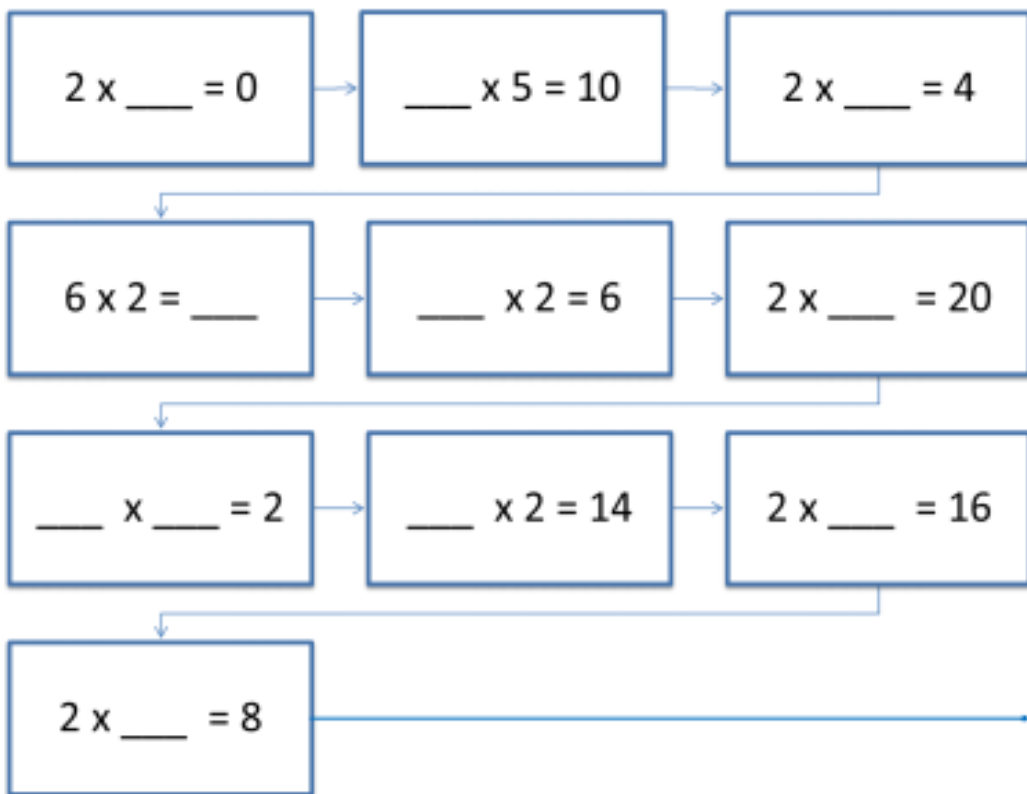
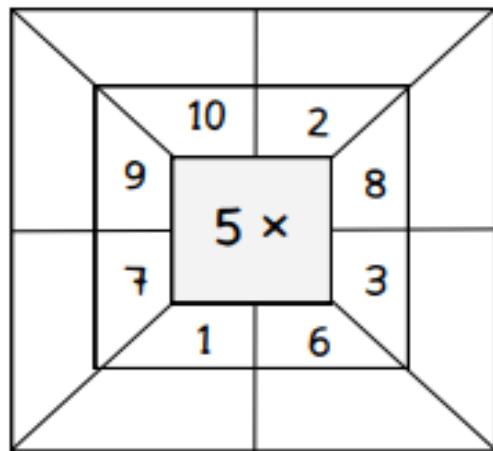
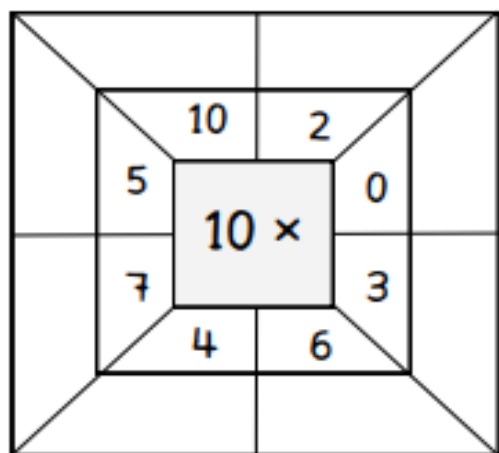
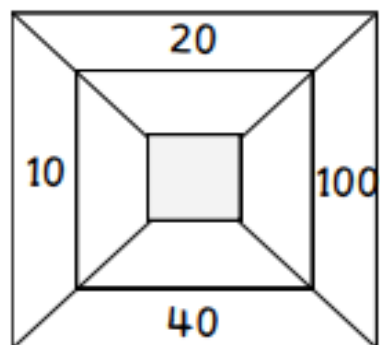
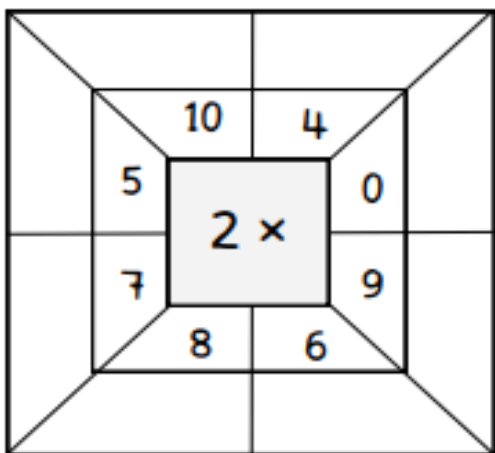
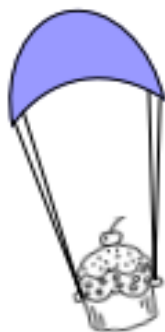
Μπορώ να πατήσω μόνο σε όσα κουτιά έχουν αριθμούς που είναι πολλαπλάσια του 2.



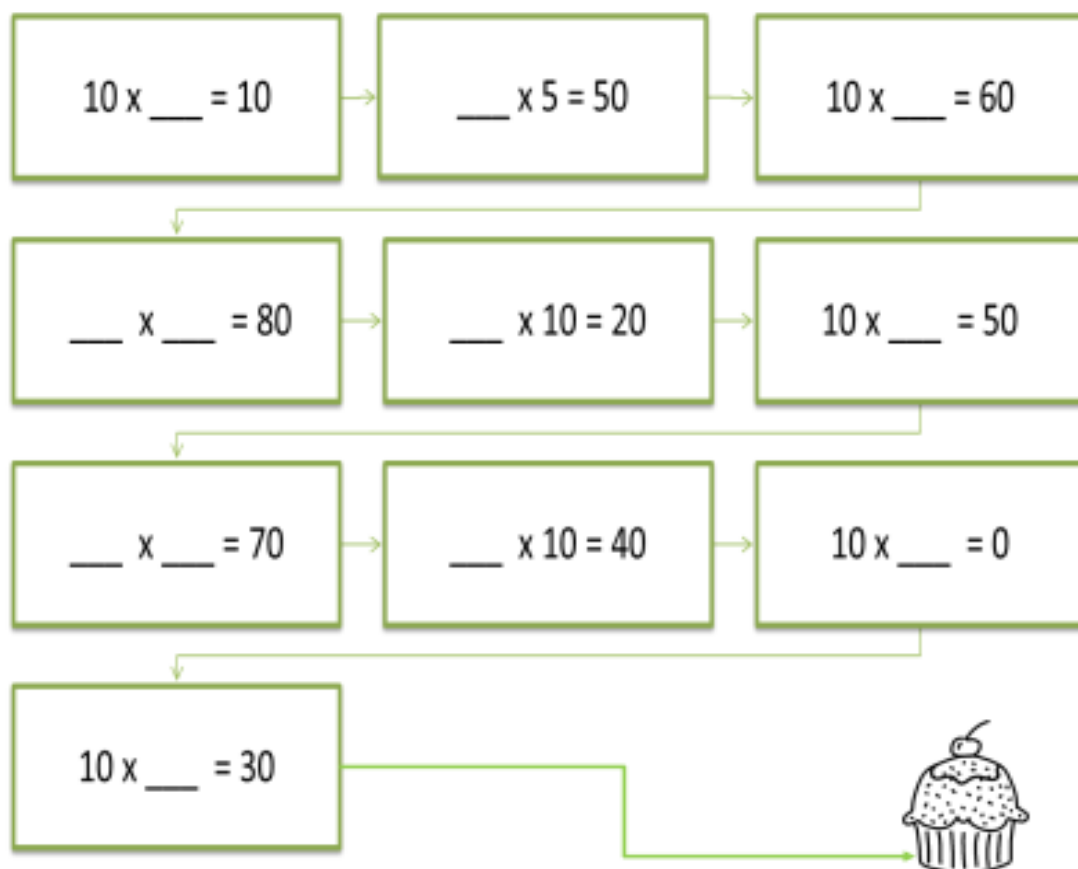
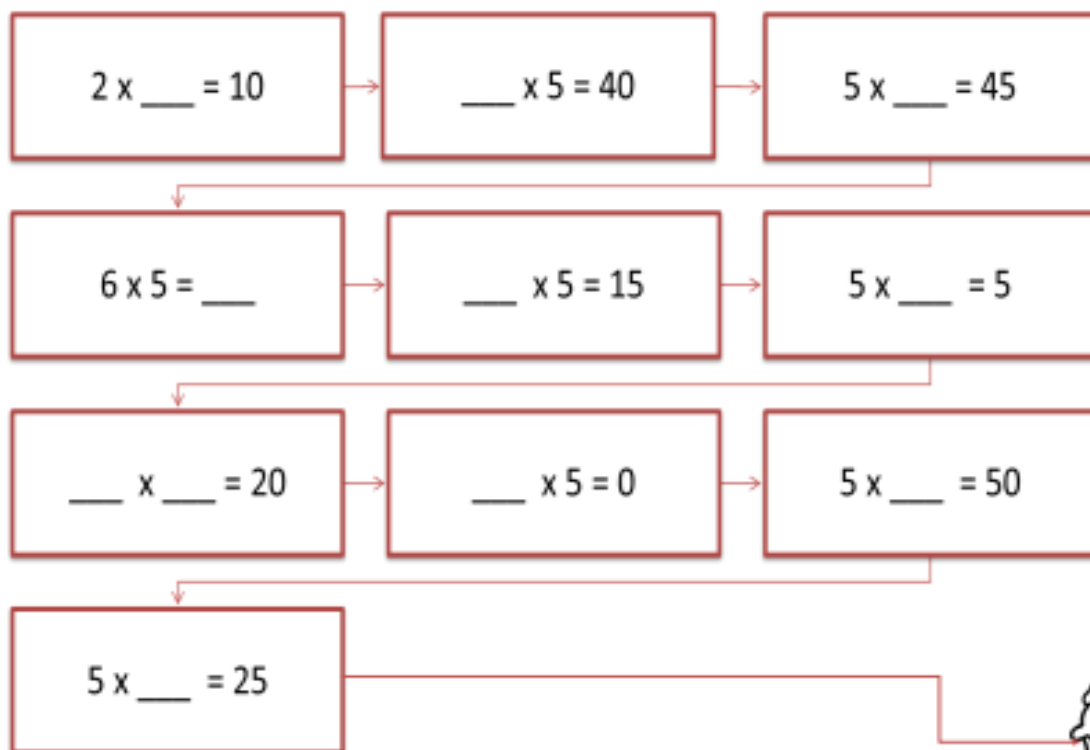
3. Να χρωματίσεις τα πολλαπλάσια του 5.



4. Να συμπληρώσεις.



5. Να συμπληρώσεις τα κενά.



6. Να αντιστοιχίσεις τις μαθηματικές προτάσεις με τους αριθμούς.

2×4

10×2

4×5

2×8

3×5

9×2

7×5

5×10

5×5

20

16

8

10

15

50

18

25

35

$\underline{\quad} \div 2 =$

$\underline{\quad} \div 4 = 2$

$\underline{\quad} \div 2 = 8$

$\underline{\quad} \div 2 = 5$

$\underline{\quad} \div 2 = 9$

$\underline{\quad} \div 3 = 5$

$\underline{\quad} \div 5 = 5$

$\underline{\quad} \div 7 = 5$

$\underline{\quad} \div 5 = 10$