

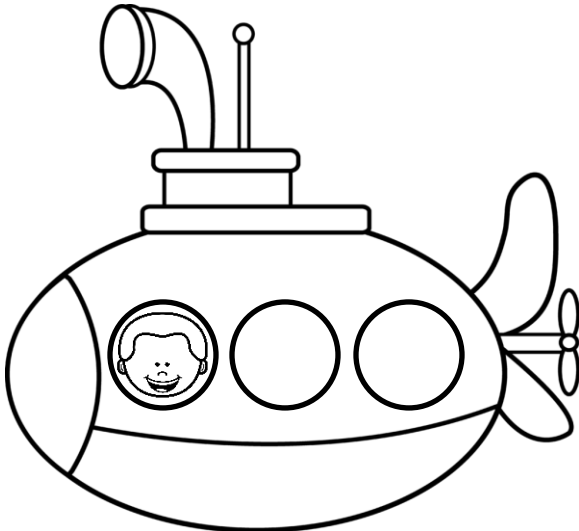


ΔΗΜΟΤΙΚΟ ΣΧΟΛΕΙΟ


Όνομα: _____ Τάξη: _____

Τα ζευγαράκια του 3


1. Πόσοι άτομα πρέπει να μπουν στο υποβρύχιο κάθε φορά, αν το υποβρύχιο χωράει μόνο 3; **Ζωγραφίζω κεφαλάκια και συμπληρώνω τη μαθηματική πρόταση.**



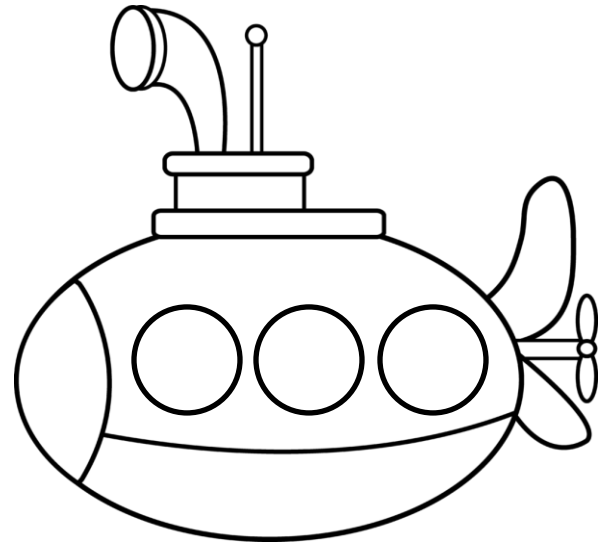
$$1 + \square = 3$$



$$2 + \square = 3$$



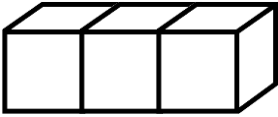
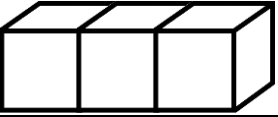
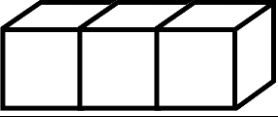
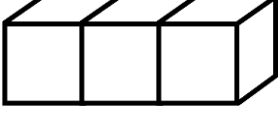
$$3 + \square = 3$$



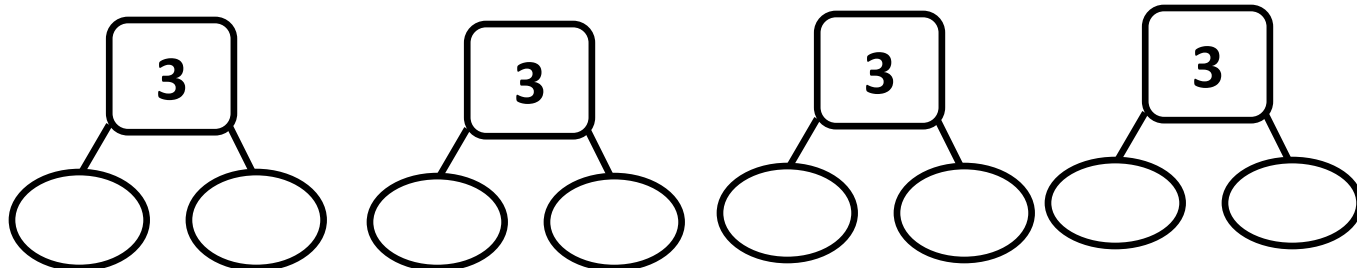
$$0 + \square = 3$$

| | | | | |
|---------------------|-------------------|-------------------|-------------------|-------------------|
| Τα ζευγαράκια του 3 | + = 3 | + = 3 | + = 3 | + = 3 |
|---------------------|-------------------|-------------------|-------------------|-------------------|

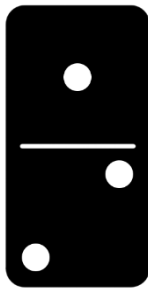
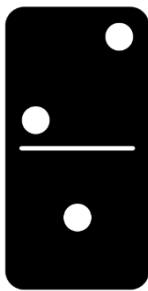

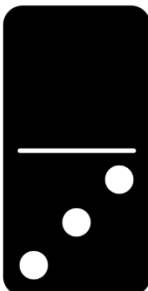
2. Χρωματίζω με δύο διαφορετικά χρώματα τους κύβους για να σχηματίσω τα ζευγαράκια του 3.

| | |
|---|-------------------|
|  | + = 3 |
|  | + = 3 |
|  | + = 3 |
|  | + = 3 |

3. Γράφω τα ζευγαράκια του αριθμού 3.



4. Γράφω τη μαθηματική πρόταση που ταιριάζει για να σχηματίσω τα ζευγαράκια του 3.

| | | | |
|---|---|--|---|
|  |  |  |  |
| <input type="text"/> + <input type="text"/> = <input type="text"/> | <input type="text"/> + <input type="text"/> = <input type="text"/> | <input type="text"/> + <input type="text"/> = <input type="text"/> | <input type="text"/> + <input type="text"/> = <input type="text"/> |