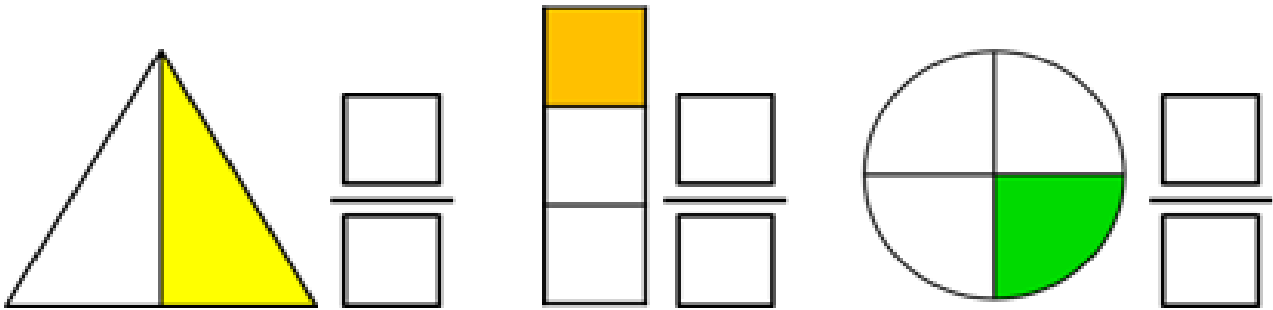

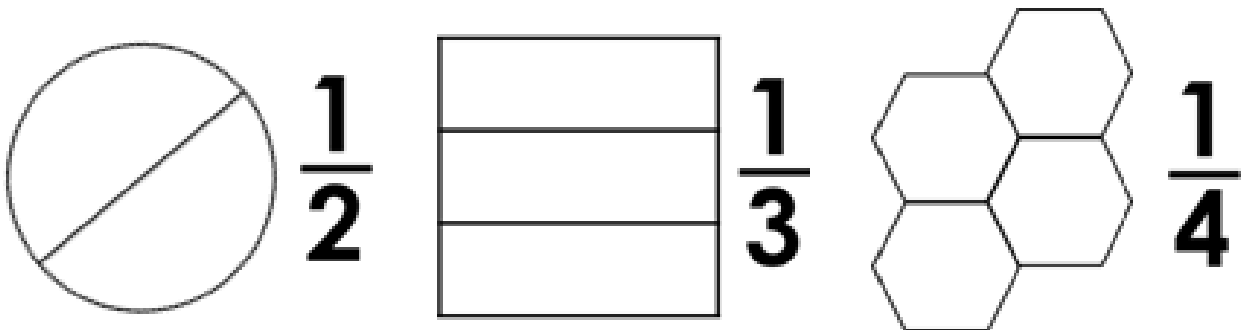


Κλάσματα

1. Γράφω το κλάσμα που παρουσιάζει το σκιασμένο μέρος κάθε επιφάνειας



2. Χρωματίζω το μέρος του συνόλου που δείχνει το κλάσμα.



3. Αντιστοιχίζω το κλάσμα με την εικόνα που το αναπαριστά όπως το παράδειγμα.

$\frac{1}{3}$		$\frac{1}{2}$		$\frac{1}{4}$	
$\frac{1}{3}$		$\frac{1}{2}$		$\frac{1}{4}$	

4. Χρωματίζω το μέρος του συνόλου που δείχνει το κλάσμα και σημειώνω $<$, $=$, $>$ όπως το παράδειγμα.

Κλάσμα 1		$> = <$		Κλάσμα 2
$\frac{1}{2}$		$>$		$\frac{1}{3}$
$\frac{1}{2}$				$\frac{1}{4}$
$\frac{1}{2}$				$\frac{1}{6}$
$\frac{1}{2}$				$\frac{1}{8}$
$\frac{1}{2}$				$\frac{1}{10}$