

ΔΙΑΙΡΕΣΗ

ΜΟΙΡΑΣΩ ΔΙΚΑΙΑ



Η Ελένη κρατούσε 9 λουλούδια. Τα μοίρασε σε 3 βάζα. Πόσα λουλούδια έβαλε στο κάθε βάζο;

ΣΧΕΔΙΟ




Εξίσωση: $9 \div 3 = 3$

Απάντηση: Σε κάθε βάζο έβαλε 3 λουλούδια.

Ο Σωτήρης κρατούσε 10 μπαλόνια και τα μοίρασε στους 5 φίλους του. Πόσα μπαλόνια πήρε το κάθε παιδάκι;

ΣΧΕΔΙΟ

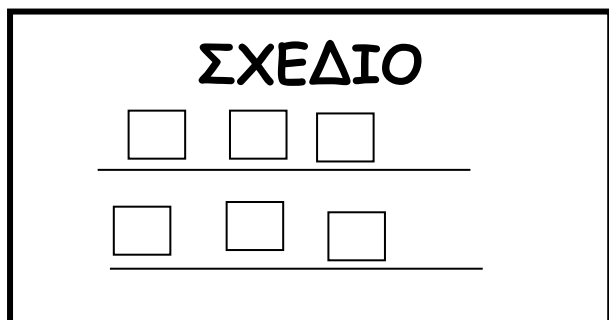


Εξίσωση: $10 \div 5 = 2$

Απάντηση: Κάθε παιδί πήρε 2 μπαλόνια.

Όνομα: τάξη: Ημερ.:

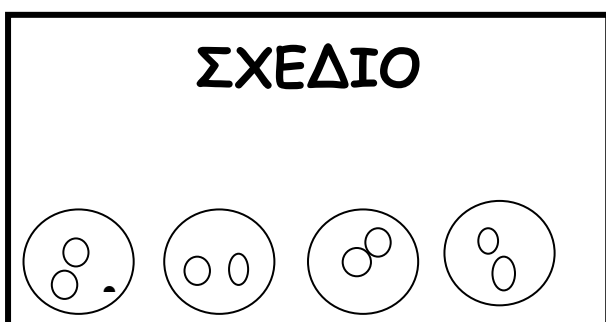
Είχα 6 βιβλία και τα μοίρασα στα 2 ράφια της βιβλιοθήκης μου. Πόσα βιβλία έβαλα σε κάθε ράφι;



Εξίσωση: $6 \div 2 = 3$

Απάντηση: Έβαλα 3 βιβλία σε κάθε ράφι.

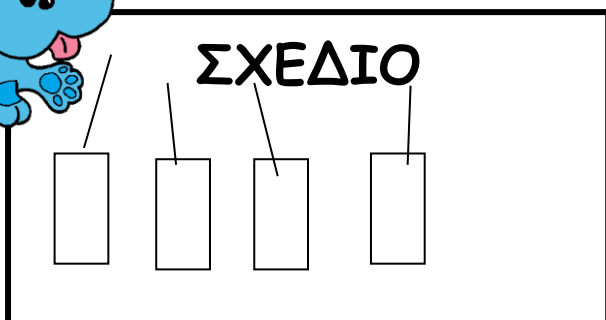
Είχα 8 βόλους. Τους μοίρασα σε 4 σακουλάκια. Πόσους βόλους έβαλα σε κάθε σακούλι;



Εξίσωση: $8 \div 4 = 2$

Απάντηση: Έβαλα 2 βόλους σε κάθε σακούλι.

Ο Λουκάς κρατούσε 4 μολύβια και τα μοίρασε σε 4 μολυβοθήκες. Πόσα μολύβια έβαλε στην κάθε μία;



Εξίσωση: $4 \div 4 = 1$

Απάντηση: Έβαλε 1 μολύβι στην κάθε μία.